

Time: 40 Minutes	Paper Math 2	Total Marks: 25
5th Month, 4th Week, 6th Day		Syllabus: Revision Test.

Q.1. Choose the correct option and fill in the blanks. (10)

درست جواب کا انتخاب کریں اور خالی جگہ پُر کریں۔

(i) The dial of clock is divide into _____ big parts.

گھڑی کے ڈائل کو _____ بڑے حصوں میں تقسیم کیا گیا ہے۔

(a)	3	(b)	6	(c)	12	(d)	27
-----	---	-----	---	-----	----	-----	----

(ii) Each big part of clock divided into _____ equal small parts.

حکاک کا بڑا حصہ _____ چھوٹے مساوی حصوں میں تقسیم کیا گیا ہے۔

(a)	3	(b)	2	(c)	5	(d)	7
-----	---	-----	---	-----	---	-----	---

(iii) 1 hour = _____ minutes. 1 گھنٹا = _____ منٹ

(a)	20	(b)	40	(c)	60	(d)	70
-----	----	-----	----	-----	----	-----	----

(iv) The last month of solar year is _____ ہے۔

(a)	January جنوری	(b)	June جون	(c)	December دسمبر	(d)	November نومبر
-----	---------------	-----	----------	-----	----------------	-----	----------------

Q.2. Look at the each picture and clock write time in a.m and p.m. (1.5×6=9)

تصاویر اور گھڑی کو دیکھ کر دی گئی جگہ پر وقت کے ساتھ a.m اور p.m لکھیں۔

At what time does Fatima wake up?



فاطمہ کب اُٹھتی ہے؟

At what time does Fatima take breakfast?



فاطمہ کب اُٹھتی ہے؟


At what time does Fatima come back from school? فاطمہ سکول سے کب واپس آتی ہے؟




At what time does Fatima do homework? فاطمہ کب گھر کا کام کرتی ہے؟



At what time does Fatima offer Asr namaz? فاطمہ عصر کی نماز کب پڑھتی ہے؟

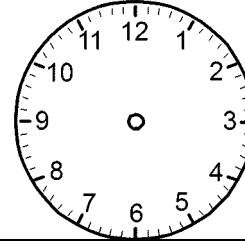


At what time does Fatima play in the evening? فاطمہ شام کو کب کھیلتی ہے؟

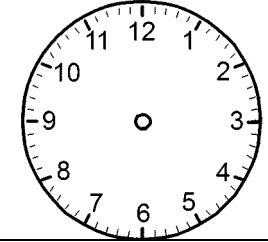


Q.3. Draw the hands of each clock according to the given time. (2×5=10)

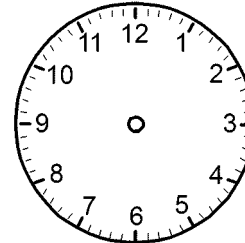
دیئے ہوئے وقت کے مطابق گھڑیوں میں سوئیاں لگائیں۔



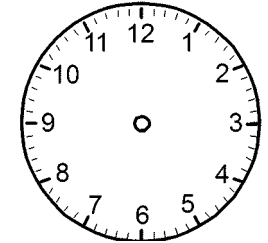
9 : 40



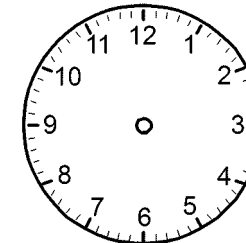
8 : 05



2 : 20



7 : 55



10 : 10